



PIRÁMIDE RECTA

Ejemplos



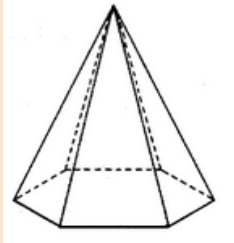
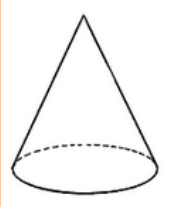
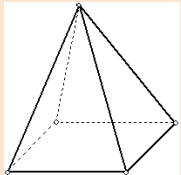
1. Dar tres ejemplos de cuerpos geométricos del entorno que correspondan a una pirámide recta.

Solución

A	Una vela.	
B	Una caja para regalo.	
C	Un dije.	

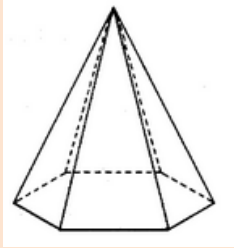
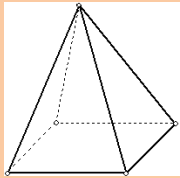


2. Determinar cuál de los siguientes cuerpos geométricos corresponde a una pirámide recta.




A	
B	
C	
D	
E	



Solución



<p>C</p>		<p>Es una pirámide recta con base hexagonal.</p>
<p>E</p>		<p>Es una pirámide recta con base cuadrada.</p>

3. Determinar cuáles de las siguientes figuras del entorno corresponden a una pirámide recta.

<p>A</p>	
<p>B</p>	
<p>C</p>	



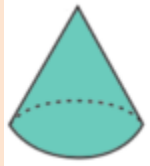
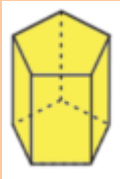


Solución

<p>B</p>		<p>Una tienda de campaña que representa una pirámide recta.</p>
<p>C</p>		<p>Es un adorno de un reloj montado en una base que representa una pirámide recta.</p>



Ejercicios

1. Identifique si dentro de los siguientes sólidos hay alguno que corresponda a una pirámide recta.

A	
B	
C	
D	

2. Dé un ejemplo de un sólido del entorno que corresponda a una pirámide recta.
3. Dé un ejemplo de un sólido del entorno que no corresponda a una pirámide recta y explique a qué corresponde.




Soluciones


1.

C		Es una pirámide recta con base pentagonal.
---	-----------------------------------------------------------------------------------	--------------------------------------------

2.

A	En bisutería, por ejemplo, los extremos de esta pulsera.	
---	----------------------------------------------------------	------------------------------------------------------------------------------------

3.

A	Una caja de galletas que corresponde a un prisma recto.	
---	---------------------------------------------------------	---------------------------------------------------------------------------------------