



CONO RECTO

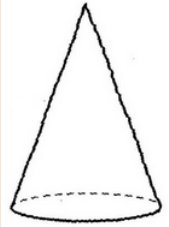
Ejemplos

1. Dar tres ejemplos de cuerpos geométricos del entorno que correspondan a un cono recto.

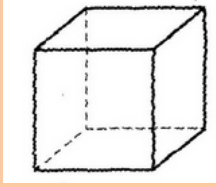
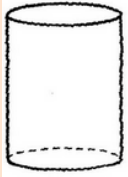
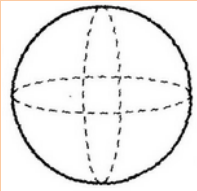

Solución

A	Un cono vial.	
B	Un embudo.	
C	Los extremos de un accesorio para perforación.	

2. Determinar cuál de los siguientes cuerpos geométricos corresponde a un cono recto.

A	
B	




	
C	
D	
E	

Solución


A		Es un cono recto.
----------	---	-------------------



3. Determinar cuáles de las siguientes figuras del entorno corresponden a un cono recto.

A	
B	
C	

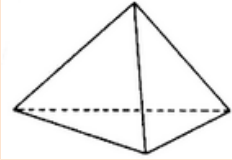
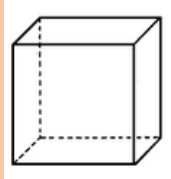
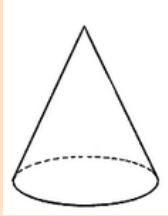
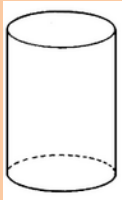
Solución

C		<p>La punta de un lápiz de color que corresponde a un cono recto.</p>
---	---	---



Ejercicios

1. Identifique si dentro de los siguientes sólidos hay alguno que corresponda a un cono recto.

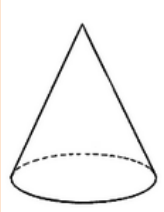
A	
B	
C	
D	

2. Dé un ejemplo de un sólido del entorno que corresponda a un cono recto.
3. Dé un ejemplo de un sólido del entorno que no corresponda a un cono recto y explique a qué corresponde.



Soluciones


1.

<p>C</p>		<p>Es un cono recto.</p>
-----------------	---	--------------------------

2.

<p>A</p>	<p>La sombra de una lámpara.</p>	
-----------------	----------------------------------	---

3.

<p>A</p>	<p>Una vela que corresponde a una pirámide.</p>	
-----------------	---	--