



## CILINDRO CIRCULAR RECTO

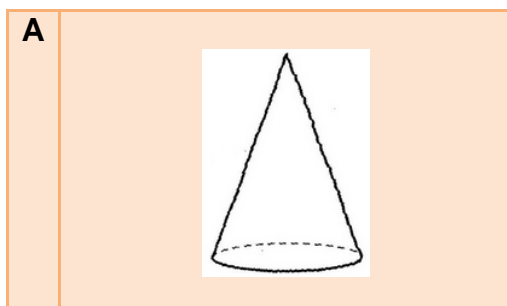
### Ejemplos

1. Dar tres ejemplos de cuerpos geométricos del entorno que correspondan a un cilindro circular recto.

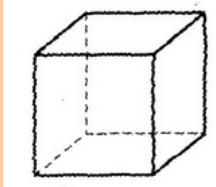
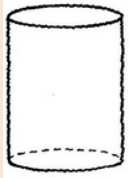
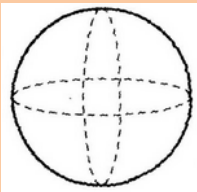

### Solución

A	Una lata para almacenar galletas.	
B	Un florero.	
C	Un rollo de papel higiénico.	

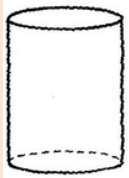
2. Determinar cuál de los siguientes cuerpos geométricos corresponde a un cilindro circular recto.





B	
C	
D	
E	

**Solución**


C		<p>Es un cilindro circular recto.</p>
---	---	---------------------------------------



3. Determinar cuáles de las siguientes figuras del entorno corresponden a un cilindro circular recto.

A	
B	
C	

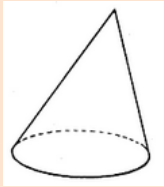
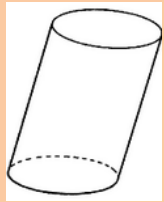
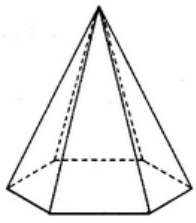
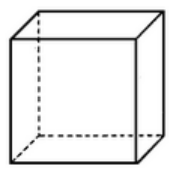
**Solución**

B		<p>Una lata de alimento que corresponde a un cilindro circular recto.</p>
---	---	---



## Ejercicios

1. Identifique si dentro de los siguientes sólidos hay alguno que corresponda a un cilindro circular recto.

A	
B	
C	
D	

2. Dé un ejemplo de un sólido del entorno que corresponda a un cilindro circular recto.
3. Dé un ejemplo de un sólido del entorno que no corresponda a un cilindro circular recto y explique a qué corresponde.




### Soluciones


1.

Ninguno de los sólidos corresponde a un cilindro circular recto.

2.

A	Un extintor de incendios.	
---	---------------------------	--

3.

A	Una bola de tenis que corresponde a una esfera.	
---	---	---